

**Técnico de Fomento C – TFC****Contador****Informações Gerais:**

1. Você está recebendo do fiscal de sala o seguinte material:
  - a) o caderno de prova, com o enunciado das 70 (setenta) questões, sem repetição ou falha.
  - b) a folha de repostas.
2. Ao receber a folha de respostas, é obrigação do candidato:
  - a) conferir se seu nome, número de inscrição e cargo escolhido estão corretos;
  - b) ler atentamente as instruções para seu preenchimento;
  - c) assinar a folha de respostas.
3. A folha de respostas será o único documento válido para a correção da prova.
4. O preenchimento da folha de respostas deverá ser feito com a utilização de caneta esferográfica de tinta azul ou preta, sendo de inteira responsabilidade do candidato.
5. Em hipótese alguma haverá substituição da folha de respostas por erro do candidato.
6. As questões da prova são identificadas pelo número que se situa acima do enunciado.
7. O tempo estabelecido para essa prova, incluindo o tempo para a marcação da folha de respostas, é de 4 (quatro) horas.
8. Durante as primeiras duas horas, o candidato não poderá deixar o recinto de realização da prova, salvo por motivo de força maior.
9. O candidato não pode anotar as marcações das questões da prova senão na folha de repostas e no caderno de questões.
10. O candidato somente poderá levar consigo este caderno de questões se permanecer em sala até 30 (trinta) minutos antes do término do horário previsto.



# Língua Portuguesa

## Jeitinho

O jeitinho não se relaciona com um sentimento revolucionário, pois aqui não há o ânimo de se mudar o *status quo*. O que se busca é obter um rápido favor para si, às escondidas e sem chamar a atenção; por isso, o jeitinho pode ser também definido como "molejo", "jogo de cintura", habilidade de se "dar bem" em uma situação "apertada".

Em sua obra *O Que Faz o Brasil, Brasil?*, o antropólogo Roberto DaMatta compara a postura dos norte-americanos e a dos brasileiros em relação às leis. Explica que a atitude formalista, respeitadora e zelosa dos norte-americanos causa admiração e espanto aos brasileiros, acostumados a violar e a ver violadas as próprias instituições; no entanto, afirma que é ingênuo creditar a postura brasileira apenas à ausência de educação adequada.

O antropólogo prossegue explicando que, diferente das norte-americanas, as instituições brasileiras foram desenhadas para coagir e desarticular o indivíduo. A natureza do Estado é naturalmente coercitiva; porém, no caso brasileiro, é inadequada à realidade individual. Um curioso termo – Belíndia – define precisamente esta situação: leis e impostos da Bélgica, realidade social da Índia.

Ora, incapacitado pelas leis, descaracterizado por uma realidade opressora, o brasileiro buscará utilizar recursos que vençam a dureza da formalidade se quiser obter o que muitas vezes será necessário à sua sobrevivência. Diante de uma autoridade, utilizará termos emocionais, tentará descobrir alguma coisa que possuam em comum - um conhecido, uma cidade da qual gostam, a "terrinha" natal onde passaram a infância - e apelará para um discurso emocional, com a certeza de que a autoridade, sendo exercida por um brasileiro, poderá muito bem se sentir tocada por esse discurso. E muitas vezes conseguirá o que precisa.

Nos Estados Unidos da América, as leis não admitem permissividade alguma e possuem franca influência na esfera dos costumes e da vida privada. Em termos mais populares, diz-se que, lá, ou "pode" ou "não pode". No Brasil, descobre-se que é possível um "pode-e-não-pode". É uma contradição simples: acredita-se que a exceção a ser aberta em nome da cordialidade não constituiria pretexto para outras exceções. Portanto, o jeitinho jamais gera formalidade, e essa jamais sairá ferida após o uso desse atalho.

Ainda de acordo com DaMatta, a informalidade é também exercida por esferas de influência superiores. Quando uma autoridade "maior" vê-se coagida por uma "menor", imediatamente ameaça fazer uso de sua influência; dessa forma, buscará dissuadir a autoridade "menor" de aplicar-lhe uma sanção.

A fórmula típica de tal atitude está contida no golpe conhecido por "carteirada", que se vale da célebre frase "você sabe com quem está falando?". Num exemplo clássico, um promotor público que vê seu carro sendo multado por uma autoridade de trânsito imediatamente fará uso (no caso, abusivo) de sua autoridade: "Você sabe com quem está falando? Eu sou o promotor público!". No entendimento de Roberto DaMatta, de qualquer forma, um "jeitinho" foi dado.

(In: [www.wikipedia.org](http://www.wikipedia.org) - com adaptações.)

## 1

De acordo com o texto, é correto afirmar que:

- o jeitinho brasileiro é um comportamento motivado pelo descompasso entre a natureza do Estado e a realidade observada no plano do indivíduo.
- as instituições norte-americanas, bem como as brasileiras, funcionam sem permissividade porque estão em sintonia com os anseios e atitudes do cidadão.
- a falta de educação do brasileiro deve ser atribuída à incapacidade de o indivíduo adequar-se à lei, uma vez que ele se sente desprotegido pelo Estado.
- a famosa "carteirada" constitui uma das manifestações do jeitinho brasileiro e define-se pelo fato de dois poderes simetricamente representados entrarem em tensão.
- nos Estados Unidos da América, as leis influem decisivamente apenas na vida pública do cidadão, ao contrário do que ocorre no Brasil, onde as leis logram mudar comportamentos no plano dos costumes e da vida privada.

## 2

Com relação à estruturação do texto e dos parágrafos, analise as afirmativas a seguir.

- O primeiro parágrafo introduz o tema, discorrendo sobre a origem histórica do jeitinho.
- A tese, apresentada no segundo parágrafo, encontra-se na frase iniciada por *no entanto*.
- O quarto parágrafo apresenta o argumento central para a sustentação da tese.

Assinale:

- se somente a afirmativa I estiver correta.
- se somente a afirmativa II estiver correta.
- se somente a afirmativa III estiver correta.
- se somente as afirmativas II e III estiverem corretas.
- se todas as afirmativas estiverem corretas.

## 3

Assinale a alternativa que identifique a composição tipológica do texto "Jeitinho".

- Descritivo, com sequências narrativas.
- Expositivo, com sequências argumentativas.
- Injuntivo, com sequências argumentativas.
- Narrativo, com sequências descritivas.
- Argumentativo, com sequências injuntivas.

## 4

Analise o fragmento a seguir.

*Explica que a atitude formalista, respeitadora e zelosa dos norte-americanos causa admiração e espanto aos brasileiros, acostumados a violar e a ver violadas as próprias instituições.*

Assinale a alternativa que apresente as propostas de substituição dos trechos sublinhados nas quais se preserva a correção estabelecida pela norma gramatical.

- Causa-lhe admiração e espanto / a vê-la violadas.
- Causa-os admiração e espanto / a ver-lhes violadas.
- Causa-los admiração e espanto / a ver-lhe violadas.
- Causa-os admiração e espanto / a vê-as violadas.
- Causa-lhes admiração e espanto / a vê-las violadas.

**5**

A natureza do Estado é naturalmente coercitiva; porém, no caso brasileiro, é inadequada à realidade individual.

A respeito do uso do vocábulo *porém* no fragmento acima, é correto afirmar que se trata de uma conjunção:

- (A) subordinativa que estabelece conexão entre a oração principal e a adverbial concessiva.
- (B) integrante que estabelece conexão entre períodos coordenados com valor de consequência.
- (C) coordenativa que estabelece conexão entre as orações introduzindo oração de valor adversativo.
- (D) integrante que estabelece conexão entre a oração principal e a oração objetiva direta.
- (E) coordenativa que estabelece conexão entre as orações introduzindo oração com valor explicativo.

**6**

A construção da frase “*tentará descobrir alguma coisa que possuam em comum – um conhecido, uma cidade da qual gostam”*, está correta em relação à regência dos verbos *possuir* e *gostar*.

De acordo com a norma padrão, assinale a alternativa que apresente **erro** de regência.

- (A) Apresentam-se algumas teses a cujas ideias procuro me orientar.
- (B) As características pelas quais um povo se identifica devem ser preservadas.
- (C) Esse é o projeto cujo objetivo principal é a reflexão sobre a brasilidade.
- (D) Eis os melhores poemas nacionalistas de que se tem conhecimento.
- (E) Aquela é a livraria onde foi lançado o romance recorde de vendas.

**7**

Quanto à correspondência oficial do tipo *memorando*, assinale a afirmativa correta.

- (A) Tem como característica principal a complexidade.
- (B) Diferencia-se do ofício mais pela finalidade do que pela forma.
- (C) Presta-se exclusivamente à comunicação externa.
- (D) Dispensa a identificação do órgão expedidor.
- (E) Deve identificar o destinatário pelo nome completo.

**8**

Na frase “*é ingênuo creditar a postura brasileira apenas à ausência de educação adequada*” foi corretamente empregado o acento indicativo de crase.

Assinale a alternativa em que o acento *indicativo de crase* está corretamente empregado.

- (A) O memorando refere-se à documentos enviados na semana passada.
- (B) Dirijo-me à Vossa Senhoria para solicitar uma audiência urgente.
- (C) Prefiro montar uma equipe de novatos à trabalhar com pessoas já desestimuladas.
- (D) O antropólogo falará apenas àquele aluno cujo nome consta na lista.
- (E) Quanto à meus funcionários, afirmo que têm horário flexível e são responsáveis.

**9**

Assinale a alternativa em que a *vírgula* está corretamente empregada.

- (A) O jeitinho, essa instituição tipicamente brasileira pode ser considerado, sem dúvida, um desvio de caráter.
- (B) Apareciam novos problemas, e o funcionário embora competente, nem sempre conseguia resolvê-los.
- (C) Ainda que os níveis de educação estivessem avançando, o sentimento geral, às vezes, era de frustração.
- (D) É claro, que se fôssemos levar a lei ao pé da letra, muitos sofreriam sanções diariamente.
- (E) O tempo não para as transformações sociais são urgentes mas há quem não perceba esse fato, que é evidente.

**10**

Observando a frase “*buscará dissuadir a autoridade ‘menor’ de aplicar-lhe uma sanção*” (L.46-47), assinale a alternativa em que a substituição da palavra sublinhada mantenha o sentido que se deseja comunicar no texto.

- (A) obrigar.
- (B) desaconselhar.
- (C) persuadir.
- (D) convencer.
- (E) coagir.

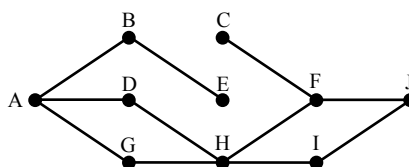
## Raciocínio Lógico-matemático

**11**

Daqui a 15 dias, Márcia fará aniversário. Paula fez aniversário há 8 dias. Júlia fará aniversário 6 dias antes de Márcia.

Se Paula faz aniversário no dia 25 de abril, é correto concluir que:

- (A) hoje é dia 02 de maio.
- (B) hoje é dia 05 de maio.
- (C) Júlia fará aniversário no dia 09 de maio.
- (D) Júlia fará aniversário no dia 12 de maio.
- (E) Márcia fará aniversário no dia 15 de maio.

**12**

A figura acima ilustra uma construção formada por 10 pontos e 11 segmentos. Cada segmento liga exatamente 2 pontos. Um caminho de A a J é uma sucessão de segmentos interligados que começa no ponto A e termina no ponto J, sem que se passe mais de uma vez por um mesmo ponto. Observe que:

- AD + DH + HF + FJ é um caminho de A até J, formado por 4 segmentos;
- AD + HF + FJ **não** é um caminho de A até J, porque AD e HF não são segmentos interligados.

Assinale a alternativa que indique quantos caminhos existem de A até J.

- (A) 5
- (B) 4
- (C) 3
- (D) 2
- (E) 1

**13**

Em uma fila, denominamos *extremos* o primeiro e o último elementos e *equidistantes* os elementos que estão à mesma distância dos extremos.

A distância entre dois elementos consecutivos dessa fila é sempre a mesma, quaisquer que sejam esses dois elementos.

Sabendo que essa fila é formada por 52 elementos, o 8º elemento é equidistante ao:

- (A) 44º elemento.
- (B) 45º elemento.
- (C) 46º elemento.
- (D) 47º elemento.
- (E) 48º elemento.

**14**

Dado um conjunto A, chamamos *subconjunto próprio não vazio* de A a qualquer conjunto que pode ser formado com *parte* dos elementos do conjunto A, desde que:

- algum elemento de A seja escolhido;
- não sejam escolhidos todos os elementos de A.

Sabemos que a quantidade de subconjuntos próprios não vazios de A é 14. A quantidade de elementos de A é igual a:

- (A) 4
- (B) 5
- (C) 6
- (D) 7
- (E) 8

**15**

Mariano distribuiu 3 lápis, 2 borrachas e 1 caneta pelas 3 gavetas de sua cômoda. Adriana, sua esposa, abriu uma das gavetas e encontrou, dentro dela, 2 lápis e 1 caneta. Sabendo-se que nenhuma das 3 gavetas está vazia, analise as afirmativas a seguir:

- I. É possível garantir que, abrindo-se qualquer outra gaveta, encontra-se pelo menos uma borracha.
- II. É possível garantir que, abrindo-se qualquer outra gaveta, encontra-se um único lápis.
- III. É possível encontrar, em uma das gavetas, mais de uma borracha.

Assinale:

- (A) se somente a afirmativa I estiver correta.
- (B) se somente a afirmativa II estiver correta.
- (C) se somente a afirmativa III estiver correta.
- (D) se somente as afirmativas I e III estiverem corretas.
- (E) se somente as afirmativas II e III estiverem corretas.

**16**

Certo dia, três amigos fizeram, cada um deles, uma afirmação:

Alúcio: – *Hoje não é terça-feira.*

Benedito: – *Ontem foi domingo.*

Camilo: – *Amanhã será quarta-feira.*

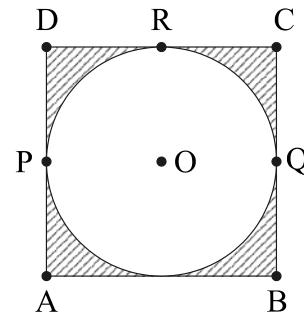
Sabe-se que um deles mentiu e que os outros dois falaram a verdade.

Assinale a alternativa que indique corretamente o dia em que eles fizeram essas afirmações.

- (A) sábado.
- (B) domingo.
- (C) segunda-feira.
- (D) terça-feira.
- (E) quarta-feira.

**17**

Uma circunferência de centro em O está inscrita em um quadrado de vértices A, B, C e D, como ilustrado. P, Q e R são pontos em que a circunferência toca o quadrado.



Com relação à figura, analise as afirmativas a seguir:

- I. A área interior ao quadrado e exterior à circunferência é menor do que a metade da área total do quadrado.
- II. A distância de A até O é menor do que a metade da medida do lado do quadrado.
- III. O percurso **PRQ**, quando feito por cima da circunferência, é mais curto do que o feito por sobre os lados do quadrado.

Assinale:

- (A) se somente a afirmativa I estiver correta.
- (B) se somente a afirmativa II estiver correta.
- (C) se somente a afirmativa III estiver correta.
- (D) se somente as afirmativas I e III estiverem corretas.
- (E) se somente as afirmativas II e III estiverem corretas.

**18**

Um número N acrescido de 20% vale 36, o mesmo que um número P reduzido de 10%. A soma de N e P é:

- (A) 60
- (B) 65
- (C) 70
- (D) 75
- (E) 80

**19**

Um dado é dito "comum" quando faces opostas somam sete. Deste modo, num dado comum, o 1 opõe-se ao 6, o 2 opõe-se ao 5 e o 3 opõe-se ao 4.

Lançando-se duas vezes seguidas um mesmo dado comum, os resultados obtidos são descritos por um par ordenado (a,b), em que a é o resultado obtido no 1º lançamento e b, o resultado obtido no 2º lançamento.

Assinale a alternativa que indique, corretamente, quantos pares ordenados diferentes podem ser obtidos de modo que a soma dos resultados seja sempre igual a 8.

- (A) 2
- (B) 3
- (C) 4
- (D) 5
- (E) 6

**20**

Ao caminhar, Márcia e Paula dão sempre passos uniformes. O passo de Márcia tem o mesmo tamanho do de Paula. Mas, enquanto Paula dá cinco passos, Márcia, no mesmo tempo, dá três passos.

No início da caminhada, Márcia estava 20 passos à frente de Paula. Se elas caminharem sem parar, Paula, para alcançar Márcia, deverá dar o seguinte número de passos:

- (A) 20
- (B) 25
- (C) 30
- (D) 40
- (E) 50

## Noções de Informática











21

A conexão de dispositivos de entrada e/ou saída de dados e consequente configuração em *notebooks* e microcomputadores do tipo desktop, é realizada por meio da utilização de conectores específicos.

A impressora Multifuncional ilustrada na figura a seguir, utiliza conectores USB tipo A do lado do microcomputador e USB do tipo B do lado da impressora.



As imagens para esses conectores são, respectivamente:

- (A)  e       (B)  e 
- (C)  e       (D)  e 
- (E)  e 

22

A figura a seguir exemplifica o uso da janela do *Windows Explorer* no sistema operacional *Windows 7 BR Ultimate*, de forma semelhante ao que acontece com outros sistemas da linha *Windows*.



Um usuário deseja selecionar todos os arquivos e pastas em Documentos. Para isso, ele deve marcar a pasta "Documentos" e pressionar, simultaneamente, as teclas:

- (A) Ctrl e A  
 (B) Alt e A  
 (C) Ctrl e S  
 (D) Alt e T  
 (E) Ctrl e T

23

Nas distribuições *Linux*, as principais bibliotecas de sistema e os arquivos de configuração e *scripts* de inicialização ficam armazenados nos seguintes diretórios:

- (A) /bib e /cfg  
 (B) / bib e /etc  
 (C) /lib e /scr  
 (D) /lib e /etc  
 (E) /lib e /cfg

24

*BROffice.org* 3.1 é um pacote integrado no contexto do *software livre* para a edição de textos, planilhas, apresentações, gráficos e banco de dados, dentre outros recursos, podendo ser empregado nas áreas administrativa, educacional e financeira.

Além do *Writer* como processador de textos, o *Calc* como *software* para manipulação de planilhas e *Impress* como programa para apresentações, o *BROffice.org* 3.1 também oferece *softwares* para:

- I. gerenciar bancos de dados, criar consultas e relatórios e rastrear e gerenciar informações.
- II. criar e editar desenhos, fluxogramas e logotipos.
- III. criar e ditar fórmulas científicas e equações.

Os *softwares* que atendem aos requisitos indicados nas afirmativas I, II e III são, respectivamente:

- (A) *Base*, *Flow* e *Math*.  
 (B) *Base*, *Draw* e *Math*.  
 (C) *dBase*, *Draw* e *Equation*.  
 (D) *dBase*, *Design* e *Mapper*.  
 (E) *Clipper*, *Flow* e *Equation*.

25

Observe o texto a seguir, referente à Agência de Fomento do Estado de Santa Catarina S.A – BADESC, elaborado no *Word 2007 BR*.

**Agência de Fomento do Estado de Santa Catarina S.A. - BADESC**

- sociedade de economia mista, de capital autorizado, criada pela Lei nº 4.950, de 11/11/1973 e instalada oficialmente em 01/08/1975, com o objetivo de promover o desenvolvimento econômico e social do Estado de Santa Catarina, mediante a prática da aplicação de recursos financeiros no âmbito de sua competência, definida pela Legislação Federal pertinente.



A partir da Lei nº 10.917 de 15 de setembro de 1998, oficialmente instalada em ata do Conselho de Administração no dia 19 de janeiro de 1999, foi transformada de "banco de desenvolvimento" em "agência de fomento", nos termos da Resolução 2828/98, do Banco Central do Brasil.

Assinale a alternativa que indique, corretamente, os recursos aplicados no texto.

- (A) capitular / alinhamento equidistante / gótico / *ClipArt*  
 (B) mesclar / alinhamento equidistante / itálico / *WordArt*  
 (C) capitular / alinhamento justificado / itálico / *WordArt*  
 (D) mesclar / alinhamento equidistante / gótico / *WordArt*  
 (E) capitular / alinhamento justificado / gótico / *ClipArt*

**26**

As planilhas BADESC11 e BADESC22 foram criadas no Excel 2007 BR. Na BADESC11, em D5 foi inserida uma expressão para determinar a soma entre os números contidos nas células A3 e C3 e, em D7 a função =MOD(D5;8).

Para finalizar, foi inserida uma fórmula para transportar o conteúdo de D7 da planilha BADESC11 para a célula D3 na planilha BADESC22.

	A	B	C	D
1	Planilha BADESC11			
2				
3	3	11	19	37
4				
5			Soma =	22
6				
7			Função MOD ...	6

e

	A	B	C	D
1	Planilha BADESC22			
2				
3			Transporte de BADESC11 =	6
4				

Nessas condições, as expressões inseridas nas células D5 de BADESC11 e D3 de BADESC22, são, respectivamente:

- (A) =SOMA(A3;D3) e =BADESC11&D7
- (B) =SOMA(A3;C3) e =BADESC11!D7
- (C) =SOMA(A3:D3) e =BADESC11% D7
- (D) =SOMA(A3:D3) e =BADESC11!D7
- (E) =SOMA(A3;D3) e =BADESC11!D7

**27**

Um usuário da Internet está navegando por meio do *browser Mozilla Firefox 3.6* e tem a possibilidade de usar ícones ou atalhos de teclado nessa atividade.

Assinale a alternativa que indique o atalho de teclado e seu significado correto.

- (A) Ctrl + C / mostrar código-fonte em nova janela.
- (B) Ctrl + F / adicionar página a favoritos.
- (C) Ctrl + E / exibir página em tela inteira.
- (D) Ctrl + S / localizar *string* na página.
- (E) Ctrl + T / abrir nova aba.

**28**

Existem, pelo menos, duas maneiras de se gerenciar o acesso às mensagens de correio eletrônico: a primeira, por meio de um serviço embutido num *site*, como por exemplo, o Gmail; e a segunda, por meio do emprego de *software* específico direcionado para o gerenciamento de *e-mails*.

São exemplos desse tipo de *software*:

- (A) o *Microsoft Outlook* e o *Mozilla Thunderbird*.
- (B) o *Mozilla Thunderbird* e o *Google Safari*.
- (C) o *Netscape Flash* e o *Microsoft Outlook*.
- (D) o *Mac Chrome* e o *Netscape Flash*.
- (E) o *Google Safari* e o *Mac Chrome*.

**29**

A respeito das características do *software* livre, analise as afirmativas a seguir.

- I. É disponibilizado com a permissão para qualquer um usá-lo, copiá-lo, e distribuí-lo, seja na sua forma original ou com modificações, seja gratuitamente ou com custo.
- II. É gratuito com a permissão para qualquer um usá-lo ou copiá-lo, exclusivamente na sua forma original, não podendo ser modificado.
- III. É *freeware* disponível com a permissão para qualquer pessoa usá-lo e modificá-lo, não podendo ser copiado ou distribuído.

Assinale:

- (A) se somente a afirmativa I estiver correta.
- (B) se somente as afirmativas I e II estiverem corretas.
- (C) se somente as afirmativas I e III estiverem corretas.
- (D) se somente as afirmativas II e III estiverem corretas.
- (E) se todas as afirmativas estiverem corretas.

**30**

Observe as figuras a seguir:



Figura 1



Figura 2

O conector ilustrado na figura 1 e o cabo ilustrado na figura 2 são empregados na implementação de redes de computadores padrão Ethernet e que normalmente acessam a Internet.

Esse conector é conhecido pela sigla:

- (A) PCI-11
- (B) RG-58
- (C) RJ-45
- (D) DDR-3
- (E) SATA-2

**Conhecimentos Específicos****31**

De acordo com a Resolução CFC n.º 750/93, assinale a alternativa que caracteriza, respectivamente, uma receita realizada e uma despesa incorrida.

- (A) A geração natural de novos ativos independentemente da intervenção de terceiros / pela extinção, parcial ou total, de um passivo, qualquer que seja o motivo, sem o desaparecimento concomitante de um ativo de valor igual ou maior.
- (B) O recebimento efetivo de doações e subvenções / nas transações com terceiros, quando estes efetuarem o pagamento ou assumirem compromisso firme de efetivá-lo.
- (C) Quando deixar de existir o correspondente valor ativo, por transferência de sua propriedade para terceiro / pela diminuição ou extinção do valor econômico de um ativo.
- (D) O surgimento de um passivo, sem o correspondente ativo / pela geração natural de novos ativos independentemente da intervenção de terceiros.
- (E) A extinção, parcial ou total, de um passivo, qualquer que seja o motivo, sem o desaparecimento concomitante de um ativo de valor igual ou maior / quando deixar de existir o correspondente valor ativo, por transferência de sua propriedade para terceiro.

**32**

A respeito do *Princípios Contábeis*, analise os textos a seguir.

“Desde que tecnicamente estimável, o registro das variações patrimoniais deve ser feito mesmo na hipótese de somente existir razoável certeza de sua ocorrência.”

“A escolha da hipótese de que resulte menor patrimônio líquido, quando se apresentarem opções igualmente aceitáveis diante dos demais Princípios Fundamentais de Contabilidade.”

“O reconhecimento simultâneo das receitas e despesas, quando correlatas, é consequência natural do respeito ao período em que ocorrer sua geração.”

Os princípios referidos nos textos são, respectivamente:

- (A) competência, oportunidade e prudência
- (B) oportunidade, prudência e continuidade
- (C) oportunidade, prudência e competência
- (D) entidade, prudência e competência
- (E) registro pelo valor original, oportunidade e competência.

**33**

Assinale a alternativa que indique a conta que constitui um *componente passivo*.

- (A) provisão para ajuste ao valor de mercado.
- (B) provisão para perda de investimentos.
- (C) provisão para créditos de liquidação duvidosa.
- (D) provisão para 13º salário.
- (E) Juros passivos a vencer.

**34**

De acordo com a lei 6404/76, assinale a alternativa que indique a conta do ativo.

- (A) Adiantamento de clientes.
- (B) Adiantamento a fornecedores.
- (C) Adiantamento de salário.
- (D) Credores por duplicatas.
- (E) Duplicatas aceitas.

**35**

Com base na resolução CFC 750/93, analise as afirmativas a seguir.

- I. A avaliação dos componentes patrimoniais deve ser feita com base nos valores de entrada, considerando-se como tais os resultantes do consenso com os agentes externos ou da imposição destes.
- II. Uma vez integrado ao patrimônio, o bem, o direito ou a obrigação poderá ter alterado seu valor intrínseco, admitindo-se, tão-somente, sua decomposição em elementos e/ou sua agregação, parcial ou integral, a outros elementos patrimoniais.
- III. Os Princípios da Atualização Monetária e do Registro pelo Valor Original são incompatíveis entre si e divergentes, dado que o primeiro apenas atualiza e mantém atualizado o valor de entrada.
- IV. A atualização monetária não representa nova avaliação, mas, tão-somente, o ajustamento dos valores originais para determinada data, mediante a aplicação de indexadores, ou outros elementos aptos a traduzir a variação do poder aquisitivo da moeda nacional em um dado período.

Assinale:

- (A) se somente as afirmativas I e IV estiverem corretas.
- (B) se somente as afirmativas II e III estiverem corretas.
- (C) se somente as afirmativas II e IV estiverem corretas.
- (D) se somente as afirmativas III e IV estiverem corretas.
- (E) se somente as afirmativas I e II estiverem corretas.

**36**

A respeito da *avaliação dos elementos do ativo*, assinale a afirmativa **incorreta**.

- (A) Os direitos que tiverem por objeto mercadorias e produtos do comércio da companhia, assim como matérias-primas, produtos em fabricação e bens em almoxarifado, são avaliados pelo custo de aquisição ou produção, deduzido de provisão para ajustá-lo ao valor de mercado, quando este for inferior.
- (B) Os direitos classificados no intangível são avaliados pelo custo incorrido na aquisição deduzido do saldo da respectiva conta de depreciação e os elementos do ativo decorrentes de operações de longo prazo serão ajustados a valor de mercado, sendo os demais ajustados quando houver efeito relevante.
- (C) As aplicações em instrumentos financeiros, inclusive derivativos, e em direitos e títulos de créditos, classificados no ativo circulante ou no realizável a longo prazo são avaliados pelo seu valor de mercado ou valor equivalente, quando se tratar de aplicações destinadas à negociação ou disponíveis para venda.
- (D) Os direitos classificados no imobilizado são avaliados pelo custo de aquisição, deduzido do saldo da respectiva conta de depreciação, amortização ou exaustão e o ativo diferido, pelo valor do capital aplicado, deduzido do saldo das contas que registrem a sua amortização.
- (E) Os investimentos em participação no capital social de outras sociedades, são avaliados pelo custo de aquisição, deduzido de provisão para perdas prováveis na realização do seu valor, quando essa perda estiver comprovada como permanente, e que não será modificado em razão do recebimento, sem custo para a companhia, de ações ou quotas bonificadas, ressalvadas as exceções prevista na lei.

**37**

Segundo a Lei 6404/76, as *reservas de capital* somente poderão ser utilizadas para as situações relacionadas nas alternativas a seguir, **à exceção de uma**. Assinale-a.

- (A) absorção de prejuízos que ultrapassem os lucros acumulados e as reservas de lucros.
- (B) resgate, reembolso ou compra de ações.
- (C) resgate de partes societárias.
- (D) incorporação ao capital social.
- (E) pagamento de dividendo a ações preferenciais, quando essa vantagem for assegurada.

**38**

Assinale a alternativa que apresente o critério que é adotado para *avaliação dos elementos do passivo no balanço patrimonial*.

- (A) As obrigações, encargos e riscos, conhecidos ou calculáveis, inclusive Imposto sobre a Renda a pagar com base no resultado do exercício, serão computados pelo valor atualizado até a data do balanço.
- (B) As obrigações em moeda estrangeira, com cláusula de paridade cambial, serão convertidas em moeda nacional à taxa de câmbio em vigor na data da realização da operação.
- (C) As obrigações, os encargos e os riscos classificados no passivo circulante serão ajustados ao seu valor presente, sendo os demais ajustados quando houver efeito relevante.
- (D) As obrigações, encargos e riscos classificados no passivo exigível a longo prazo serão ajustados ao seu valor de operação, sendo os demais ajustados quando houver efeito material.
- (E) As obrigações, encargos e riscos trabalhistas e fiscais classificados no passivo não-circulante serão ajustados ao seu valor na data da operação.

**39**

Assinale a alternativa que apresente *contas de resultado*.

- (A) Seguros a vencer – despesas de juros – depreciação acumulada.
- (B) Custo das mercadorias vendidas – despesas de salários – ICMS a recolher.
- (C) Receitas de juros – depreciação acumulada – salários a pagar.
- (D) Despesas financeiras – custo das mercadorias vendidas – receita de juros.
- (E) Salários a pagar – despesas de ICMS – juros a vencer.

**40**

Com base na lei 6404/76, analise os lançamentos contábeis a seguir.

- Bancos
- a Diversos
- a Duplicatas a Receber
- a Receitas de Juros

Esses lançamentos contábeis representam:

- (A) pagamento de duplicata com juros.
- (B) recebimento de duplicatas com juros.
- (C) pagamento de empréstimo com juros contratuais.
- (D) emissão de duplicata com ágio.
- (E) aceite de duplicata com deságio.

**41**

Assinale a alternativa que apresenta *contas com saldo credor*.

- (A) Fornecedores, salário a pagar e clientes.
- (B) Provisão para férias, adiantamento a fornecedores e impostos a recolher.
- (C) Empréstimos bancários, juros ativos e capital.
- (D) Juros passivos, mercadorias e estoques.
- (E) Contas a pagar, depreciação acumulada e imóveis para uso.

**42**

A empresa possuía dois imóveis adquiridos por 20.000 cada um, pagos com 10% de entrada e 4 duplicatas mensais de igual valor, vencendo-se a primeira 30 dias após a entrada.

Ao vendê-los por 60.000, recebeu um cheque de 30% de entrada e aceitou receber o restante em 60 dias.

Desprezando-se as questões de natureza fiscal e tributária é correto afirmar que houve acréscimo de ativo no valor de:

- (A) 56.000
- (B) 100.000
- (C) 40.000
- (D) 58.000
- (E) 82.000

**43**

Assinale a alternativa que apresente a conta que aumenta seu saldo com um lançamento a crédito.

- (A) Impostos a recuperar.
- (B) Seguros a vencer.
- (C) Prêmios de seguros.
- (D) Aluguéis ativos a vencer.
- (E) Salários.

**44**

Assinale a afirmativa **incorreta**.

- (A) A conta adiantamento a fornecedores é do ativo.
- (B) A conta seguros a vencer é do ativo.
- (C) A conta duplicatas a receber é do passivo.
- (D) A conta ações em tesouraria é do ativo.
- (E) a conta ações de coligadas é do patrimônio líquido.

**45**

As reservas de lucros previstas na Lei n.º 6404/76, estão relacionadas nas alternativas a seguir, **à exceção de uma**. Assinale-a.

- (A) Reserva legal.
- (B) Reserva de reavaliação.
- (C) Reservas para contingências.
- (D) Reservas de incentivos fiscais.
- (E) Reservas de lucros a realizar

**46**

De acordo com as regras contábeis vigentes, assinale a alternativa que apresente o critério que deve ser considerado na avaliação de matérias-primas.

- (A) pelo valor de mercado, deduzido de provisão para ajustá-lo ao valor justo, quando necessário.
- (B) pelo custo de aquisição ou produção, deduzido de provisão para ajustá-lo ao valor de mercado, quando este for inferior.
- (C) pelo custo de aquisição ou produção, deduzido de provisão para ajustá-lo ao valor de mercado, quando este for superior.
- (D) pelo custo de aquisição ou produção, atualizado ao valor de mercado, quando este for superior.
- (E) pelo valor de mercado, deduzido de provisão para ajustá-lo aos possíveis efeitos fiscais, quando este for inferior.

**As questões 47 e 48 devem ser respondidas a partir dos dados apresentados na tabela a seguir.**

Custo de mercadorias vendidas.....	230.000,00.
Exaustão .....	85.000,00.
Amortização.....	9.900,00.
Receitas Financeiras.....	410.000,00.
FGTS.....	25.000,00.
Juros sobre o Capital Próprio.....	88.800,00.
Lucro do Exercício .....	1.725.830,00.
Impostos Municipais.....	3.860,00.
Remuneração direta .....	7.800,00.
Receita de vendas de mercadoria.....	1.900.500,00.
Materiais, energia e serviços de terceiros .....	129.000,00.
Impostos Federais .....	13.220,00.
Contribuições Previdenciárias .....	4.490,00.
Resultado de equivalência patrimonial.....	72.700,00.
Aluguéis .....	52.500,00.
Impostos Estaduais .....	7.500,00.
Intangível.....	310.025,00.
Investimentos.....	125.830,00.
Ajustes a Valor Presente.....	79.850,00.

**47**

O Valor Adicionado Total a Distribuir é de:

- (A) 2.106.900,00.
- (B) 2.018.100,00.
- (C) 1.446.600,00.
- (D) 1.725.830,00
- (E) 1.929.300,00.

**48**

O Valor Adicionado Recebido em Transferência é de:

- (A) 435.000,00.
- (B) 450.850,00.
- (C) 571.500,00.
- (D) 482.700,00.
- (E) 498.800,00.



**49**

Segundo a Lei 6404/76, com relação a DRE – Demonstração do Resultado do Exercício, assinale a alternativa que apresente as participações de debêntures, empregados, administradores e partes beneficiárias.

- (A) Mesmo na forma de instrumentos contábeis e fiscais e de instituições ou fundos de assistência ou previdência de empregados, que não se caracterizem como despesa.
- (B) Mesmo na forma de instrumentos contábeis e de instituições ou fundos de assistência ou previdência de empregados, que se caracterizem como despesa.
- (C) Mesmo na forma de instrumentos financeiros e de instituições ou fundos de assistência ou previdência de empregados, que não se caracterizem como despesa.
- (D) Mesmo na forma de instrumentos financeiros e de instituições ou organizações sociais, que não se caracterizem como despesa.
- (E) Mesmo na forma de instrumentos fiscais e financeiros e de instituições ou fundos de assistência ou previdência de empregados, que não se caracterizem como despesa.

**50**

Assinale a alternativa que indique o critério de avaliação dos estoques adotado por uma Companhia que atribui às mercadorias os custos mais antigos.

- (A) Custo Específico.
- (B) Custo Médio Ponderado.
- (C) PPSP.
- (D) PEPS.
- (E) UEPS.

**51**

Na elaboração da demonstração do resultado do exercício, o lucro bruto virá após:

- (A) as despesas com as vendas.
- (B) o lucro ou prejuízo não operacional.
- (C) a receita líquida.
- (D) as outras despesas operacionais.
- (E) a provisão de imposto de renda.

**52**

Assinale a alternativa que indique a demonstração contábil que fornece a movimentação ocorrida durante o exercício nas contas do Patrimônio Líquido.

- (A) Demonstração das mutações do patrimônio líquido.
- (B) Balanço patrimonial.
- (C) Demonstração de lucros ou prejuízos acumulados.
- (D) Demonstração dos fluxos de caixa.
- (E) Demonstração do valor adicionado.

**Com base nos dados extraídos da empresa comercial Belle Modas, responda as questões 53 a 57.**

Dados extraídos da Demonstração do Resultado do Exercício e respectivos livros contábeis:

ICMS .....	16.000.
Provisão para IR.....	51.950.
Vendas Anuladas .....	8.800.
CMV .....	21.700.
Participações dos empregados e administradores.....	13.500.
Despesas com vendas .....	15.000.
Despesas financeiras.....	1.800.
receita bruta das vendas .....	279.000,00.
Despesas administrativas.....	7.900.

**53**

A *Receita Líquida* foi de:

- (A) 279.000,00.
- (B) 254.200,00.
- (C) 263.000,00.
- (D) 276.500,00.
- (E) 284.200,00.

**54**

O *Lucro Bruto* foi de:

- (A) 263.000,00.
- (B) 264.200,00.
- (C) 232.500,00.
- (D) 226.500,00.
- (E) 279.200,00.

**55**

O *Lucro ou Prejuízo Operacional* foi de:

- (A) lucro de 207.800,00.
- (B) lucro de 27.800,00.
- (C) prejuízo de 232.500,00.
- (D) prejuízo de R\$ 207.800,00.
- (E) lucro de 209.200,00.

**56**

O resultado após o Imposto de Renda foi:

- (A) lucro de 180.550,00.
- (B) prejuízo de 259.750,00.
- (C) lucro de 259.750,00.
- (D) prejuízo de 155.850,00.
- (E) lucro de 155.850,00.

**57**

O *Lucro ou Prejuízo Líquido* do exercício foi de:

- (A) lucro de 180.550,00.
- (B) prejuízo de 259.750,00.
- (C) lucro de 259.750,00.
- (D) lucro de 142.350,00.
- (E) lucro de 155.850,00.

**Com base nos valores descritos a seguir, extraídos da empresa comercial Wlubelle, responda as questões 58 e 59.**

- Estoque inicial em 01/12/2009 avaliado em 62.700.
- As compras do mês de dezembro totalizaram 52.800.
- O estoque final, inventariado em 31/12/2009, foi de 40.700.
- O total das vendas em Dezembro de 2009 foi de 98.300.
- A empresa utiliza o inventário periódico.

**58**

O total do custo das mercadorias vendidas em 31/12/2009, foi de:

- (A) 62.700,00.
- (B) 74.800,00.
- (C) 115.500,00.
- (D) 57.600,00.
- (E) 72.700,00.

**59**

O resultado com as mercadorias vendidas em 31/12/09 foi de:

- (A) 43.500,00.
- (B) 33.800,00.
- (C) 57.600,00.
- (D) 40.700,00.
- (E) 23.500,00.

**60**

Assinale a alternativa em que todas as contas são redutoras de ativo.

- (A) depreciação e amortização acumulada, ICMS a recuperar e dividendos a receber.
- (B) exaustão acumulada, provisão para perdas em estoque e duplicatas descontadas.
- (C) provisão para redução ao valor de mercado, obras de arte e provisão para créditos de liquidação duvidosa.
- (D) numerários em trânsito, depreciação acumulada e IPI a recuperar.
- (E) obras de arte, amortização acumulada e benfeitorias em bens de terceiros.

**Com base na relação das contas extraídas do balancete de novembro/X1 e dos fatos ocorridos em dezembro/X1 da Empresa Teto Doce, responda as questões de números 61 a 66.**

Balancete de Nov/X1.

CONTAS.....	SALDOS
Caixa .....	16.400
Clientes(Curto Prazo) .....	2.550
Investimentos de natureza permanente.....	5.000
Imóveis.....	3.500
Móveis e Utensílios .....	8.200
Terrenos .....	11.550
Estoques.....	14.500
Clientes (Longo Prazo) .....	5.000
Ativo Intangível.....	3.200
Fornecedor (Longo Prazo).....	10.100
Reserva de Lucros .....	12.000
Fornecedor(Curto Prazo) .....	6.650
Capital.....	37.300
Prejuízos Acumulados .....	(150,00)
Salários a Pagar.....	4.000

Considere os fatos ocorridos em Dezembro de X1:

- I Pagamento, em dinheiro, de despesa com energia, 1.600,00.
- II. Compra de mercadorias no valor de 15.000, com vencimento pactuado para 04/02/X3. ICMS de 18%.
- III. Venda de Mercadorias no valor de 35.000, com recebimento em dinheiro. ICMS de 18%. CMV de 5.000.
- IV. Pagamento de Salários a Pagar (vide balancete de Novembro/X1), em dinheiro.
- V. Os bens foram depreciados. Para fins de depreciação acumulada anual, considere, para os bens imóveis, a vida útil de 25 anos e dos móveis e utensílios, de 10 anos.

**61**

O Ativo Não Circulante em 31/12/X1 representa:

- (A) 22.290,00.
- (B) 32.290,00.
- (C) 35.490,00.
- (D) 36.450,00.
- (E) 45.490,00.

**62**

O Ativo Circulante em 31/12/X1 monta:

- (A) 70.150,00.
- (B) 33.450,00.
- (C) 61.150,00.
- (D) 38.450,00.
- (E) 75.150,00.

**63**

O total do Patrimônio Líquido em 31/12/X1 representa:

- (A) 49.150,00.
- (B) 70.140,00.
- (C) 60.140,00.
- (D) 70.290,00.
- (E) 58.290,00.

**64**

O saldo final da Conta Estoque em 31/12/X1, é de:

- (A) 21.800,00.
- (B) 14.500,00.
- (C) 29.500,00.
- (D) 26.800,00.
- (E) 31.800,00.

**65**

Após o encerramento das Contas de Resultado, a apuração do exercício, em 31/12/X1, apresentou:

- (A) lucro de 22.100,00.
- (B) prejuízo de 22.100,00.
- (C) prejuízo de 13.860,00.
- (D) lucro de 35.000,00.
- (E) lucro de 21.140,00.

**66**

A Receita Líquida apurada na demonstração do resultado do exercício, em 31/12/X1, representa:

- (A) 35.000,00.
- (B) 23.700,00.
- (C) 28.700,00.
- (D) 21.140,00.
- (E) 25.140,00.

**67**

De acordo com as regras contábeis vigentes, o *fundo de comércio adquirido* deve ser contabilizado no:

- (A) intangível.
- (B) imobilizado.
- (C) diferido.
- (D) investimento.
- (E) disponível.

**68**

De acordo com a legislação societária, as *ações em tesouraria* deverão ser destacadas no balanço como:

- (A) conta do passivo não circulante.
- (B) conta devedora do ativo circulante.
- (C) conta retificadora do ativo não circulante.
- (D) dedução da conta do patrimônio líquido.
- (E) conta credora do patrimônio líquido.

**69**

Assinale a alternativa que apresente apenas *contas de resultado*.

- (A) ICMS sobre vendas, juros ativos e custos dos serviços prestados.
- (B) ICMS a recuperar, ICMS sobre vendas e FGTS a recolher.
- (C) Receitas diferidas, reservas de incentivos fiscais e custos dos serviços prestados.
- (D) Despesas de organização, receitas diferidas e ações em tesouraria.
- (E) Duplicatas descontadas, juros ativos e depreciação.

**70**

Os direitos que tenham por objeto bens corpóreos destinados à manutenção das atividades de uma empresa, devem ser contabilizados no:

- (A) investimento.
- (B) ativo circulante.
- (C) patrimônio líquido.
- (D) intangível.
- (E) imobilizado.

▶ **Espaço para rascunho**

Realização:



**F U N D A Ç Ã O**  
**GETULIO VARGAS**  

---

***FGV PROJETOS***